

Nombre: Fecha:

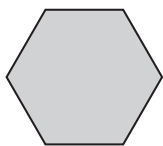
1. ¿Qué palabras faltan? Completa las oraciones.

- Un es un polígono de cuatro lados que no tiene ningún lado paralelo.
- Un paralelogramo con los ángulos iguales y los lados iguales es un
- Un polígono de tres lados con un ángulo recto es un
- Un triángulo con los tres lados distintos es un triángulo

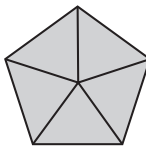
2. Dibuja un hexágono formado por seis triángulos equiláteros iguales al del ejemplo. ¿Cuánto medirá el lado de un hexágono si su perímetro mide 18 cm?




3. Escribe el nombre de cada uno de estos cuerpos geométricos vistos desde arriba.



.....

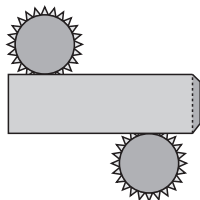


.....

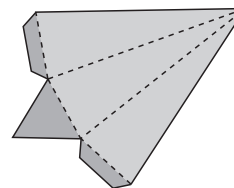


.....

4. ¿Qué cuerpos geométricos se pueden construir con estos desarrollos?



.....



.....

5. Se colocaron barras de acero en todas las aristas de una escultura con forma de cubo. Si cada arista medía 4 m, ¿cuántos metros de acero necesitaron?