


























1 Piensa un número y resuelve estas operaciones.

$$\text{.....} + 240 - 150 - 80 + 165 - 110 + 145 - 210 = \text{.....}$$

- a) ¿Cuál es el resultado?
- b) Piensa otro número y repite las operaciones. ¿Cuál es el resultado?
- c) ¿Sabes explicar por qué el resultado siempre es el mismo?

2 Averigua cuál es el valor de cada figura.

	+		+		+		=	14
	+		+		+		=	20
	+		+		+		=	24
	+		+		+		=	20
	+		+		+		=	13

3 Lee el problema y resuelve las operaciones. Escribe qué se calcula con cada una de ellas.

Iván y Ana coleccionan canicas. Iván tiene 84 menos que Ana. Esta tarde, Iván ha perdido 37 canicas de su colección y ahora le quedan 125.



125 + 37 = ▶

162 + 84 = ▶