

14 La medida del tiempo

Nombre: Fecha:

1. Completa las oraciones.

- Un tiene 60 segundos.
- Un año tiene días.
- Una semana tiene días.
- Un año bisiesto tiene días.




2. Pablo tiene 1 década, su madre 4 décadas y su abuelo 7 décadas. ¿Cuántos años tiene cada uno?


Pablo: madre: abuelo:

3. Escribe las horas en los relojes digitales.


8 y cuarto de la tarde




9 y veinticinco de la mañana





4 menos cuarto de la tarde



6 menos diez de la tarde



4. ¿Qué relojes marcan la misma hora? Relaciona mediante flechas.



5. Realiza las siguientes sumas y restas.

	horas	minutos
	3	15
+	2	12
<hr/>		

	horas	minutos
	2	24
+	3	23
<hr/>		

	horas	minutos
	9	33
-	2	4
<hr/>		

	horas	minutos
	8	14
-	3	7
<hr/>		