

6

Las fracciones

Nombre: Fecha:

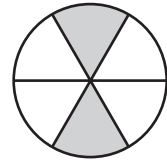
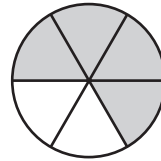
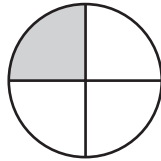
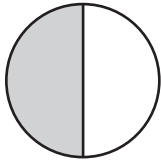
1. ¿Qué dibujo le corresponde a cada fracción? Relaciónalos mediante flechas.

$\frac{1}{4}$

$\frac{2}{6}$

$\frac{4}{6}$

$\frac{1}{2}$



2. Rodea de azul los numeradores y de rojo los denominadores.

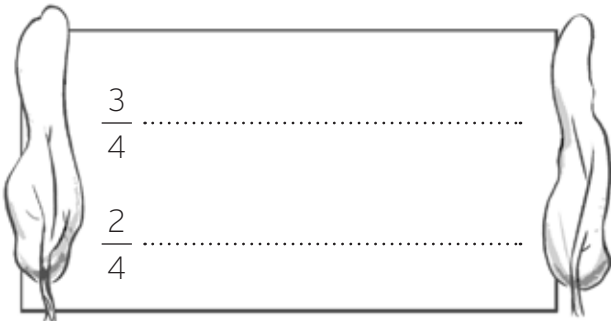
$\frac{3}{4}$

$\frac{5}{9}$

$\frac{1}{3}$

$\frac{6}{8}$

3. Escribe con letra estas fracciones y ordénalas de menor a mayor.



$$\frac{\square}{\square} < \frac{\square}{\square} < \frac{\square}{\square} < \frac{\square}{\square}$$

4. ¿Qué fracciones son equivalentes a la unidad? Coloréalas.

$\frac{3}{3}$

$\frac{4}{5}$

$\frac{7}{6}$

$\frac{4}{4}$

5. Calcula las siguientes cantidades.

$\frac{1}{4}$ de 20

$\frac{1}{3}$ de 12

$\frac{1}{6}$ de 24

$\frac{1}{5}$ de 25

.....
.....

.....
.....

.....
.....

.....
.....