

7 Los números decimales

Nombre: Fecha:

1. ¿Qué número decimal corresponde a cada fracción?

$$\frac{3}{10} = 0,3$$

$$\frac{5}{10} = \dots\dots\dots$$

$$\frac{7}{10} = \dots\dots\dots$$

$$\frac{2}{10} = \dots\dots\dots$$

2. Relaciona con flechas.

quince centésimas

cuatro décimas

cinco centésimas

cinco décimas


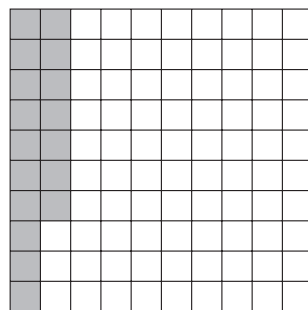
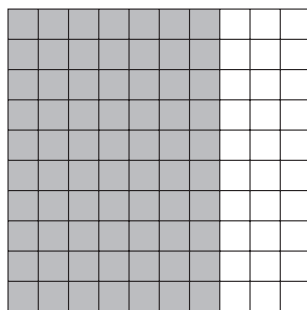
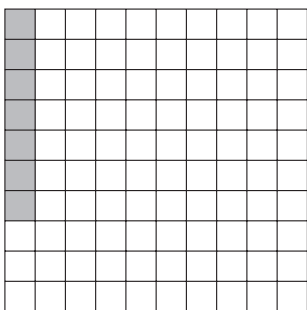
0,4

0,15

0,5

0,05

3. Expresa la parte coloreada en forma de fracción y de número decimal.



$$\frac{\square}{\square} = \dots\dots\dots$$

$$\frac{\square}{\square} = \dots\dots\dots$$

$$\frac{\square}{\square} = \dots\dots\dots$$

$$\frac{\square}{\square} = \dots\dots\dots$$

4. Escribe con cifras los siguientes números.

cincuenta y seis coma uno:

cuatrocientos dos coma tres:

cero coma treinta y cinco:

veinte coma setenta y ocho:

5. Ordena de menor a mayor estos números decimales.

0,87

0,78

0,70

0,80

0,81

..... < < < <