

## Movimientos en el plano

Nombre: ..... Fecha: .....

1. Realiza las siguientes divisiones y haz la prueba.


$$1546 \overline{)25}$$



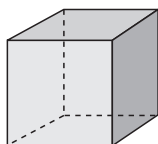
$$5566 \overline{)32}$$



2. Dibuja un rombo, un romboide, un trapecio y un trapezoide. Indica qué tienen en común.



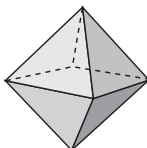
3. Escribe el número de caras laterales, aristas y vértices de los siguientes poliedros.



caras: .....

aristas: .....

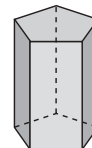
vértices: .....



caras: .....

aristas: .....

vértices: .....



caras: .....

aristas: .....

vértices: .....

4. Un camión de bomberos carga 8.000 l de agua, descarga 5.915 l para apagar un incendio y después 1.865 l para enfriar el terreno quemado. ¿Cuántos litros quedan en el camión?



5. Mallorca tiene 623 km de costa, Menorca 299 km e Ibiza 239 km. Si el resto de islas que componen el archipiélago tienen 267 km, ¿cuántos kilómetros de costa hay en total?