

1 Coloca y resuelve las siguientes operaciones.

$$4.458 + 89.945$$



$$795 + 5.826 + 21.950$$



$$4.598 - 2.796$$



$$75.395 - 8.689$$



2 Escribe y resuelve las operaciones cuyos términos son los indicados en cada caso.

<b>sumandos: 25.895 y 42.568</b>	<b>sumandos: 8.506, 52.789 y 2.316</b>
<b>minuendo: 15.789 sustraendo: 9.598</b>	<b>minuendo: 23.246 sustraendo: 1.858</b>

3 En un concurso, Lucas ha conseguido 5.896 puntos y Miguel, 3.253 puntos más. ¿Cuántos puntos ha conseguido aproximadamente Miguel?

Respuesta: .....

- 4 Completa las operaciones con los números que faltan.

$$\begin{array}{r} 5 \quad \bullet \quad \bullet \quad 8 \\ + \quad \bullet \quad 5 \quad 3 \quad \bullet \\ \hline \bullet \quad 3 \quad 2 \quad 0 \quad 8 \end{array}$$

$$\begin{array}{r} 4 \quad 6 \quad \bullet \quad 6 \quad 3 \\ - \quad \bullet \quad 7 \quad 5 \quad 0 \quad \bullet \\ \hline 1 \quad \bullet \quad 0 \quad \bullet \quad 4 \end{array}$$

- 5 Completa las sumas y relacionalas con la propiedad que se ha aplicado.

$$7 + 9 + 5 = 7 + 14 = \dots\dots\dots$$

propiedad conmutativa

$$12 + 9 = 9 + 12 = \dots\dots\dots$$

$$8 + 6 + 4 = 8 + 10 = \dots\dots\dots$$

propiedad asociativa

$$\dots\dots\dots + 6 = 6 + \dots\dots\dots = 36$$

- 6 Calcula el minuendo de cada una de estas restas.

$$\begin{array}{r} \text{■} \\ - 4 \quad 4 \quad 6 \quad 1 \quad 1 \\ \hline 1 \quad 0 \quad 9 \quad 2 \quad 3 \end{array}$$

$$\begin{array}{r} \text{■} \\ - 5 \quad 6 \quad 0 \quad 7 \quad 3 \\ \hline 2 \quad 5 \quad 6 \quad 6 \quad 4 \end{array}$$

- 7 Julia quiere realizar el crucero anunciado en el cartel. Si ya ha ahorrado 875 €, ¿cuánto le falta?




Respuesta: .....


- 8 La distancia entre Madrid y Buenos Aires es de 10.056 km. Si un avión que lleva esta ruta ha recorrido 8.563 km, ¿cuántos kilómetros le quedan aproximadamente para llegar a su destino?

Respuesta: .....


- 9 ¿Quién ha resuelto correctamente la operación? Haz la prueba de cada resta para averiguarlo.



Bea



Antonio



Laura

prueba	prueba	prueba

Respuesta: .....

- 10 Un avión ha recorrido 22.694 km esta semana y 25.369 km, la semana anterior. ¿Cuántos kilómetros ha recorrido en total? ¿Cuántos kilómetros ha recorrido menos esta semana que la anterior?

Respuesta: .....